

auteur: Martie de Pater

naam: _____


Een dag naar de dierentuin

Dit ga je doen

- getallen splitsen in honderdtallen, tientallen en eenheden
- vermenigvuldigen
- optellen en aftrekken tot en met 100
- digitaal klokkijken met hele uren, halve uren en kwartieren

1 Kleur de goede kaartjes

- a** De oudste schildpad ter wereld heet Jonathan. Hij is 190 jaar oud.
Kleur de goede getalkaarten **geel**.
- b** Een zebra weegt ongeveer 280 kilogram.
Kleur de goede getalkaarten **blauw**.
- c** In de dierentuin is een aquarium waar 445 liter water in gaat.
Kleur de goede getalkaarten **rood**.
- d** Dinsdag waren er 972 bezoekers in de dierentuin.
Kleur de goede getalkaarten **groen**.



90	30	200	5	2	40
100	70	80	400	900	20

2 Rekenen met dierenweetjes

- a** Een olifant plast 18 liter per dag. In een verblijf zitten 3 olifanten.
Hoeveel liter plassen zij samen per dag?

_____ liter

- b** Een panda eet tussen de 12 en 40 kilogram bamboe op een dag.
Hoeveel bamboe heeft de dierentuin nodig voor 1 week voor 1 panda?

tussen de _____ en _____ kilogram

AANGEBODEN DOOR:

naam: _____

3 In het restaurant

Bram (7 jaar), Luuk (5 jaar) en Veerle (2 jaar) gaan met hun moeder naar de dierentuin. Ze hebben € 100,- voor de hele dag.

prijzlijst dierentuin

0 t/m 2 jaar gratis
 3 t/m 9 jaar € 23,- per persoon
 vanaf 10 jaar € 27,- per persoon

MENUKAART

smoothie	€ 3,00
vers sap	€ 2,00
melk	€ 1,50
broodje kroket	€ 4,00
broodje gezond	€ 5,00
wrap	€ 3,00
tosti	€ 4,00

a Hoeveel geld houden ze over voor de lunch?

b Bedenk twee verschillende lunches die ze kunnen betalen.

_____	_____
_____	_____
_____	_____
_____	_____
_____	_____
_____	_____
_____	_____
_____	_____
_____	_____
_____	_____

AANGEBODEN DOOR:

naam: _____

4 Bedenk zelf

a Reken de som uit. Bedenk een verhaal bij de som. Zorg dat het verhaal past bij het thema dierentuin.

$56 + 47 = \dots$

b Reken de som uit. Bedenk er een verhaal bij en maak er ook een tekening van op een blaadje.

$55 - 29 = \dots$

5 Voedertijd!

Hoe laat krijgen de dieren te eten?

<p>apen</p>  <p>9:00</p> <p>_____</p>	<p>pinguïns</p>  <p>10:30</p> <p>_____</p>	<p>giraffen</p>  <p>9:45</p> <p>_____</p>	<p>leeuwen</p>  <p>8:50</p> <p>_____</p>
--------------------------------------------------------------------------------------------------------------------------	-------------------------------------------------------------------------------------------------------------------------------	-------------------------------------------------------------------------------------------------------------------------------	-------------------------------------------------------------------------------------------------------------------------------

naam: _____

6 Showtime!

a Het is nu 10:15. Over hoeveel tijd beginnen de shows?



voeren van de flamingo's




theatershow
De brullende leeuwen




dolfijnenshow

voeren van de apen




over _____

b Welke show zou jij het liefst willen zien? Leg uit waarom.
