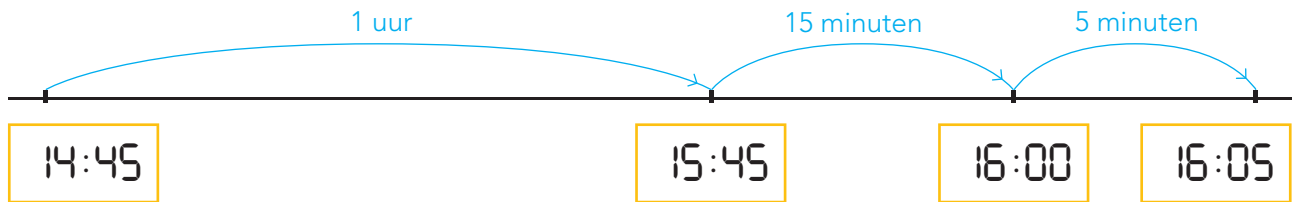


DOEL 2

- Je oefent uitrekenen hoe laat het over een bepaalde tijd is en hoeveel uren en minuten het later is.

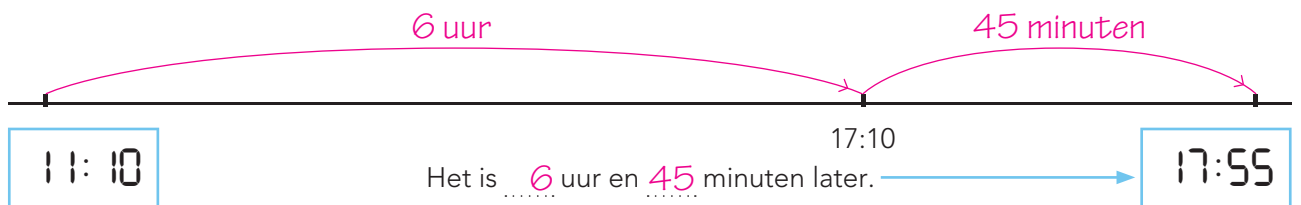
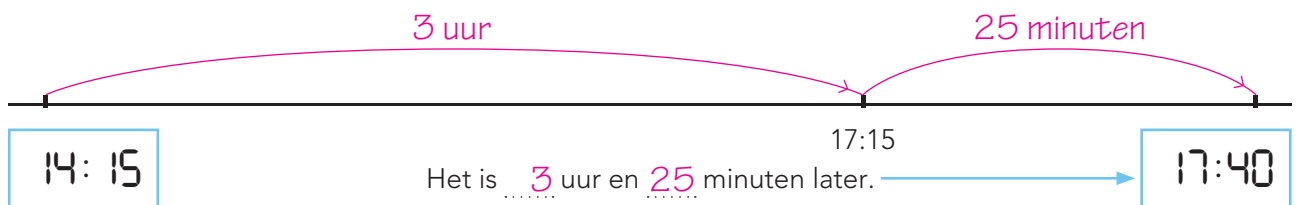
HULP



1 uur en 20 minuten later

1

Hoeveel later? Laat zien hoe je rekent.



2

Hoeveel later? Je mag een getallenlijn gebruiken in je schrift.



07:15	10:40	12:40	14:15
...3 uur en 25 minuten later	...1 uur en 35 minuten later		

08:12	10:38	18:23	21:41
...2 uur en 26 minuten later	...3 uur en 18 minuten later		

19:50	00:10	14:28	18:52
...4 uur en 20 minuten later	...4 uur en 24 minuten later		

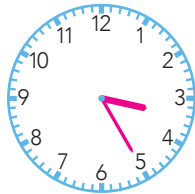
3



Hoe laat wordt het? Je mag een getallenlijn maken in je schrift.

11:10

15:25



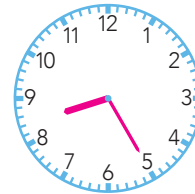
4 uur en 15 minuten later

5 minuten

voor half 4

18:55

20:25



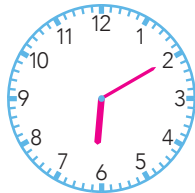
1 uur en 30 minuten later

5 minuten

voor half 9

03:45

06:10



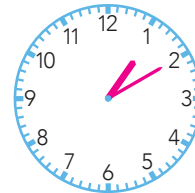
2 uur en 25 minuten later

10 minuten

over 6

21:25

01:10



3 uur en 45 minuten later

10 minuten

over 1

4



Hoeveel later? Je mag een getallenlijn maken in je schrift.




10:45

3 uur en  
25 minuten later



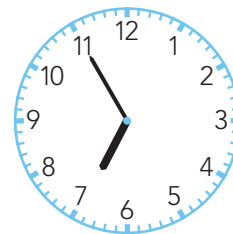
13:45

2 uur en  
35 minuten later



21:10

1 uur en  
40 minuten later



20:15

1 uur en  
20 minuten later

5



Hoe laat was het? Je mag een getallenlijn gebruiken in je schrift.

16:05

17:20

1 uur en 15 minuten vroeger

19:50

21:00

1 uur en 10 minuten vroeger

07:25

08:45

1 uur en 20 minuten vroeger

22:50

01:20

2 uur en 30 minuten vroeger