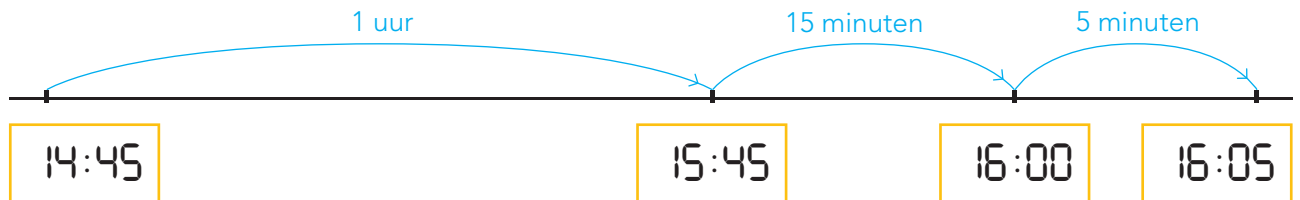


DOEL 2

- Je oefent uitrekenen hoe laat het over een bepaalde tijd is en hoeveel uren en minuten het later is.


HULP



1 uur en 20 minuten later

1

Hoeveel later? Laat zien hoe je rekent.



2

Hoeveel later? Je mag een getallenlijn gebruiken in je schrift.



07:15 10:40
 uur en minuten later

12:40 14:15
 uur en minuten later

08:12 10:38
 uur en minuten later

18:23 21:41
 uur en minuten later

19:50 00:10
 uur en minuten later

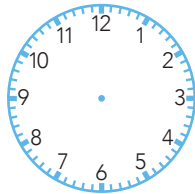
14:28 18:52
 uur en minuten later

3



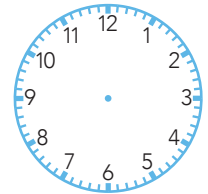
Hoe laat wordt het? Je mag een getallenlijn maken in je schrift.

11:10 :



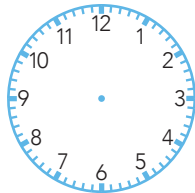
4 uur en 15 minuten later minuten

18:55 :



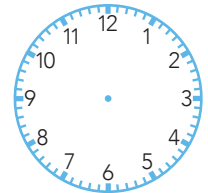
1 uur en 30 minuten later minuten

03:45 :



2 uur en 25 minuten later minuten

21:25 :

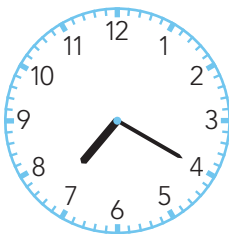


3 uur en 45 minuten later minuten

4




Hoeveel later? Je mag een getallenlijn maken in je schrift.




10:45

..... uur en
..... minuten later



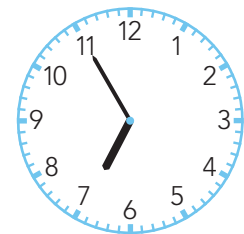
13:45

..... uur en
..... minuten later



21:10

..... uur en
..... minuten later



20:15

..... uur en
..... minuten later

5



Hoe laat was het? Je mag een getallenlijn gebruiken in je schrift.

: 17:20

1 uur en 15 minuten vroeger

: 21:00

1 uur en 10 minuten vroeger

: 08:45

1 uur en 20 minuten vroeger

: 01:20

2 uur en 30 minuten vroeger