

DOEL 1

- Je oefent tellen tot en met 100.000 met sprongen van 1, 10, 100, 1000 en 10.000.
- Je oefent getallen tot en met 100.000:
 - splitsen en samenstellen in tienduizendtallen, duizendtallen, honderdtallen, tientallen en eenheden;
 - op volgorde zetten;
 - schattend plaatsen en aflezen op de getallenlijn.

HULP

Tel 1 verder en 1 terug.

6	9	9	9	8					
6	9	9	9	9					
7	0	0	0	0					
7	0	0	0	1					
7	0	0	0	2					



1

Splits de getallen. Vul het schema in en maak de som.

		TD	D	H	T	E	
98.830	achtennegentigduizend achthonderddertig						
77.097	zevenenzeventigduizend zevenennegentig						
80.999	tachtigduizend negen- honderd negenennegentig						
72.499	twee en zeventigduizend vierhonderdnegenennegentig						
56.418	zesenvijftigduizend vierhonderdachtien						
54.695	vierenvijftigduizend zeshonderdvijfennegentig						

GA VERDER →

2

Hoeveel is het samen? Vul het schema in.

	TD	D	H	T	E
$40.000 + 600 + 50 + 4 + 6000$					
$2000 + 60 + 8 + 10.000 + 400$					
$800 + 6 + 70.000 + 3000$					
$60.000 + 80 + 5$					
$300 + 5000 + 1 + 40 + 30.000$					

	TD	D	H	T	E
$100 + 6000 + 20.000 + 80 + 2$					
$30.000 + 400 + 3000 + 30 + 7$					
$1000 + 40 + 3 + 40.000$					
$7000 + 10 + 2 + 90.000 + 900$					
$8000 + 2 + 500 + 70 + 50.000$					

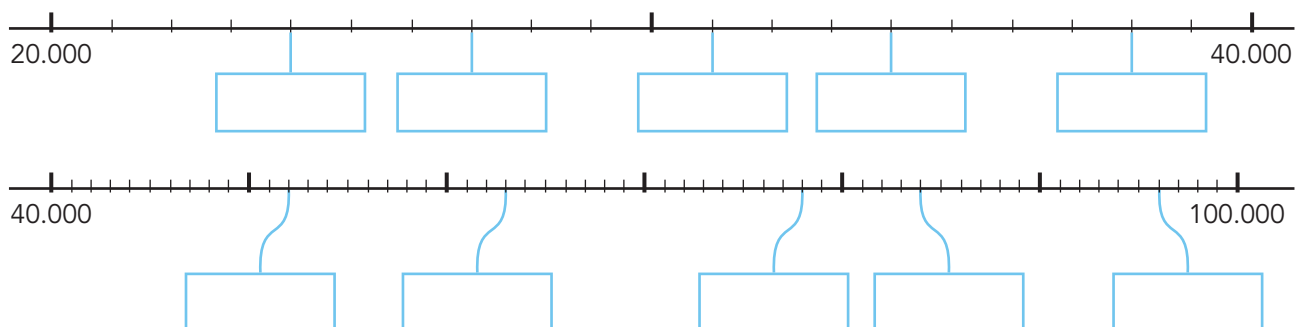
3

Van klein naar groot. Vul in.

37.390 km	64.959 km	14.479 km	44.979 km	17.409 km
km	km	km	km	km
18.310 km	81.130 km	11.013 km	88.031 km	81.830 km
km	km	km	km	km

4

Welk getal? Vul in.



5

Tel 3 sprongen verder of tel 3 sprongen terug.

+ 1000

4	5	8	9	7					

+ 100

8	9	9	2	0					

+ 10.000

5	2	1	2	6					

- 1000

3	1	8	7	0					

- 10

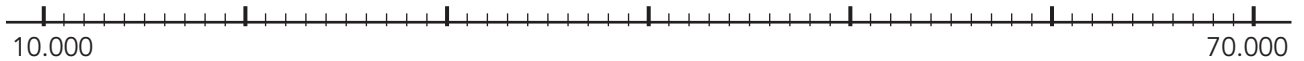
1	9	2	0	7					

- 1

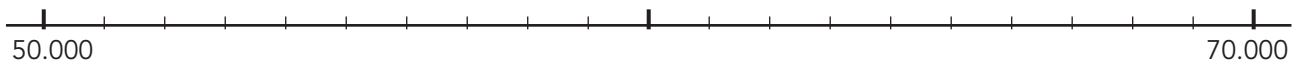
5	0	0	0	2					

6

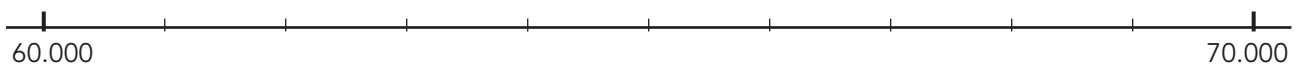
Waar liggen de getallen ongeveer? Maak vast.



23.000	34.000	46.000	58.000	65.000
--------	--------	--------	--------	--------



50.150	53.000	58.200	62.500	67.800
--------	--------	--------	--------	--------



60.400	63.580	66.050	68.750	69.900
--------	--------	--------	--------	--------