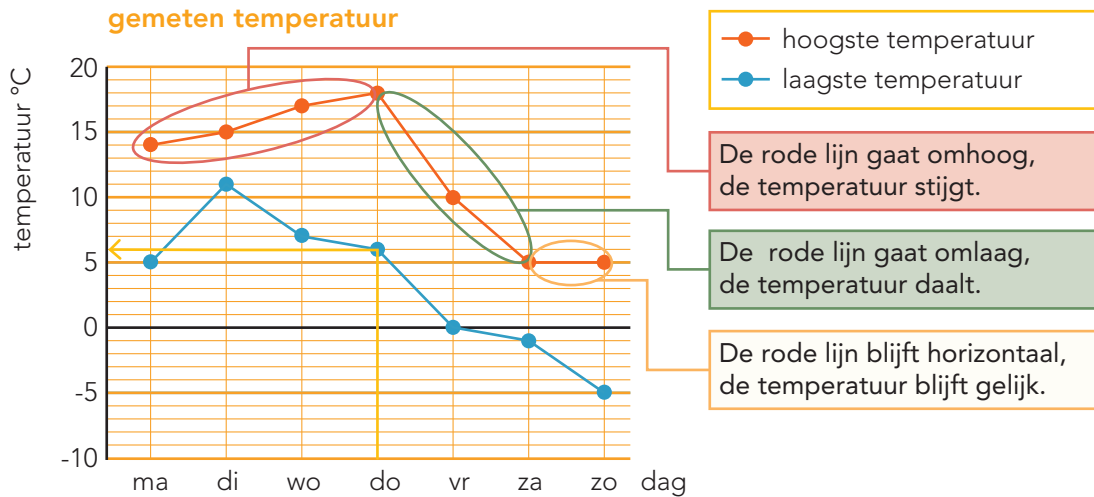


DOEL 4

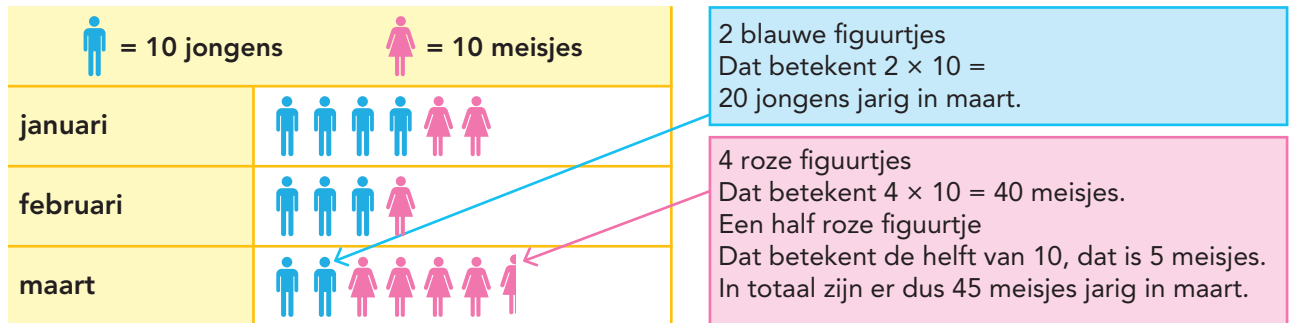
- Je oefent rekenen met lijndiagrammen.
- Je oefent een beelddiagram aflezen en gebruiken.

HULP



Op donderdag was de laagste temperatuur 6 °C.

aantal kinderen jarig in eerste kwartaal



In dit beelddiagram zie je het aantal jarigen in januari, februari en maart.







1

Hoeveel boeken? Vul de tabel in.

De school mag nieuwe boeken bestellen voor de bibliotheek.

Ze tellen eerst hoeveel boeken er al zijn.

	prentenboeken	leesboeken	informatieboeken
groep 1 en 2			
groep 3, 4 en 5			
groep 6, 7 en 8			

groep 1 en 2			 = 100 prentenboeken
groep 3, 4 en 5			 = 100 leesboeken
groep 6, 7 en 8			 = 100 informatieboeken

2

Kijk bij opgave 1. Beantwoord de vragen.

Hoeveel prentenboeken hebben de groepen 1 tot en met 5 samen?

Hoeveel informatieboeken hebben de groepen 1 tot en met 8 samen?

Hoeveel boeken heeft groep 3/4/5 in totaal?

Hoeveel boeken heeft groep 6/7/8 in totaal?

Hoeveel leesboeken zijn er in totaal op school?

Hoeveel prentenboeken zijn er in totaal?

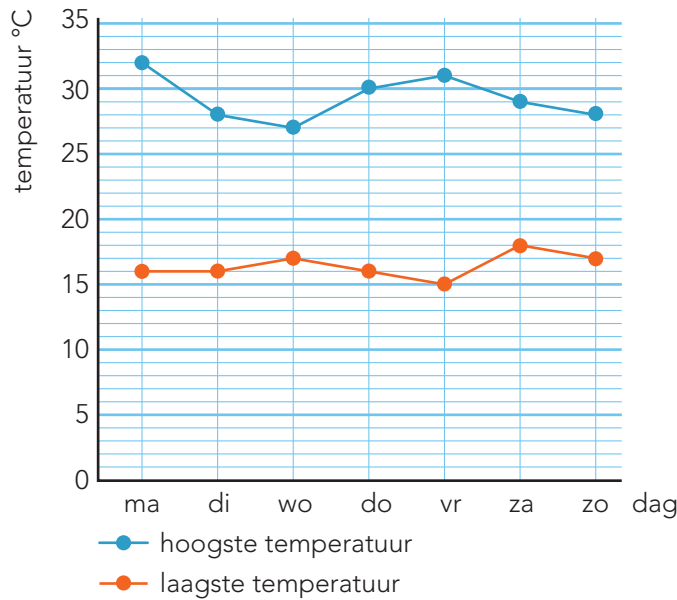
Hoeveel boeken heeft de bibliotheek in totaal?

GA VERDER →

3

Kijk in het diagram. Beantwoord de vragen.

gemeten temperatuur op vakantie



Wat was de hoogste temperatuur op woensdag? °C.

Op welke dag was het verschil tussen de hoogste en de laagste temperatuur 14 graden?

Op dag.

Op welke dagen was de hoogste temperatuur gelijk? Op dag en dag.

Op welke dag was het verschil tussen de hoogste en de laagste temperatuur 10 graden?





Op dag.

Hoeveel graden verschil was er tussen de hoogste en de laagste temperatuur op maandag? °C.

4

Hoeveel jeugdleden heeft de badmintonclub?

aantal jeugdleden van de badmintonclub

 = 10 jongens	 = 10 meisjes
BC sla_mis	
BC shuttle	

Hoeveel meisjes zijn er lid van BC shuttle?

Hoeveel meer jongens dan meisjes zijn er lid van BC shuttle?

Hoeveel jeugdleden heeft BC sla_mis?

Welke badmintonclub heeft de meeste jongens als jeugdlid?

Bij welke club hebben ze 5 jongens meer dan meisjes?

Bij

5+

Hoeveel olifanten?

Er leven steeds minder olifanten in Afrika.

In 1984 waren er in Afrika ongeveer 1.500.000 olifanten.

In 2014 waren er in Afrika ongeveer olifanten.

Van 1984 tot 2014 is het aantal olifanten gedaald met:

