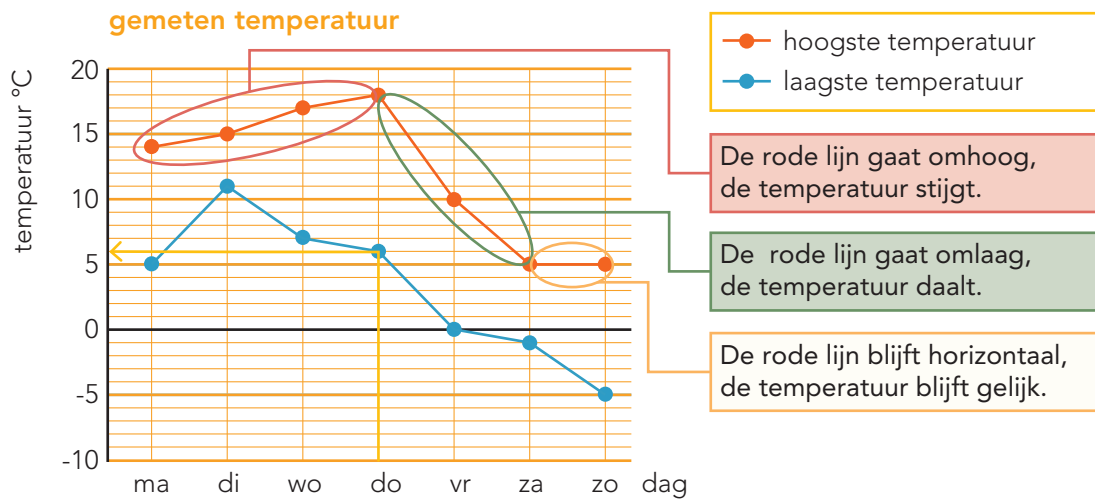


DOEL 4

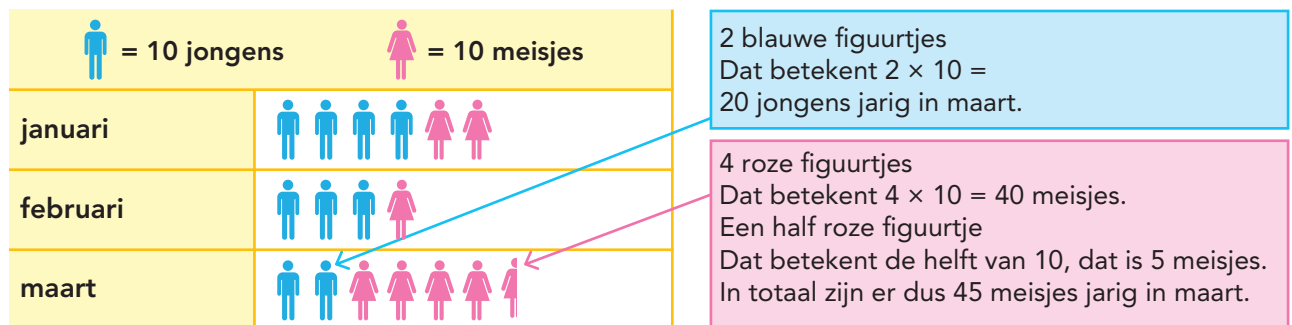
- Je oefent rekenen met lijndiagrammen.
- Je oefent een beelddiagram aflezen en gebruiken.

HULP



Op donderdag was de laagste temperatuur 6 °C.

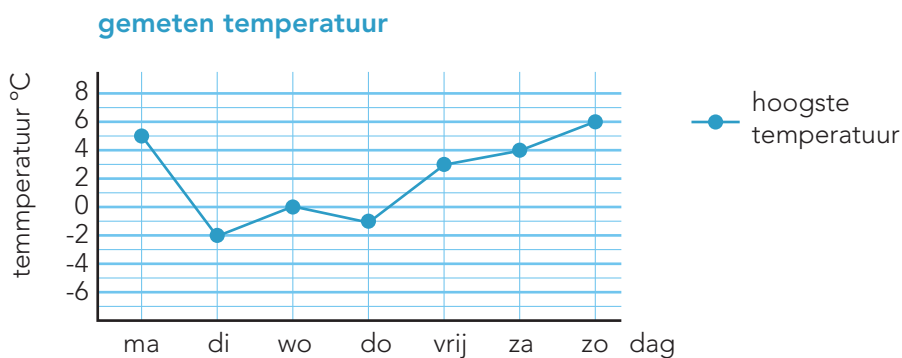
aantal kinderen jarig in eerste kwartaal



In dit beelddiagram zie je het aantal jarigen in januari, februari en maart.

1

Vul de tabel in. Beantwoord de vragen.



dag	hoogste temperatuur
ma	5
di	-2
wo	0
do	-1
vr	3
za	4
zo	6

Welke dag was de koudste dag? dinsdag

Op welke dag was de hoogste temperatuur precies 4 graden? op zaterdag

Op welke dag was de hoogste temperatuur -1 graden? op donderdag

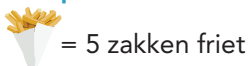
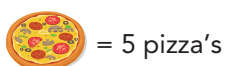
Op dinsdag was de hoogste temperatuur 8 graden lager dan op zondag.

Op maandag was de hoogste temperatuur 2 graden hoger dan op vrijdag.

2

Kijk in het diagram en vul de tabel in.

aantal kinderen dat kiest voor pizza of friet



	friet	pizza
groep 5	10	15
groep 6	15	20
groep 7	5	15

3

Kijk bij opgave 2. Beantwoord de vragen.

Hoeveel kinderen kiezen voor pizza? 50

Hoeveel kinderen in groep 6 en 7 kiezen voor friet? 20

Hoeveel kinderen in groep 7 kiezen voor pizza? 15

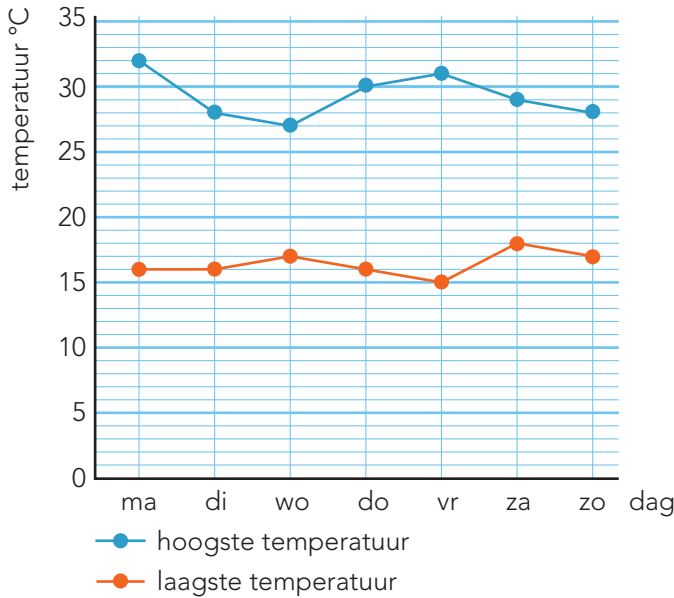
In welke groep kiezen de minste kinderen voor friet? groep 7

Hoeveel kinderen in groep 6 kiezen voor friet? 15

4

Kijk in het diagram. Beantwoord de vragen.

gemeten temperatuur op vakantie



Wat was de hoogste temperatuur op woensdag? 27 °C.

Op welke dag was het verschil tussen de hoogste en de laagste temperatuur 14 graden?

Op donderdag.

Op welke dagen was de hoogste temperatuur gelijk? Op dinsdag en

zondag.

Op welke dag was het verschil tussen de hoogste en de laagste temperatuur 10 graden?

Op woensdag.





Hoeveel graden verschil was er tussen de hoogste en de laagste temperatuur op

maandag? 16 °C.

5

Hoeveel jeugdleden heeft de badmintonclub?

aantal jeugdleden van de badmintonclub

 = 10 jongens	 = 10 meisjes
BC sla_mis	
BC shuttle	

Hoeveel meisjes zijn er lid van BC shuttle? 15

Hoeveel meer jongens dan meisjes zijn er lid van BC shuttle? 25

Hoeveel jeugdleden heeft BC sla\_mis? 55

Welke badmintonclub heeft de meeste jongens als jeugdlid? BC shuttle

Bij welke club hebben ze 5 jongens meer dan meisjes?

Bij BC sla\_mis

KLAAR!