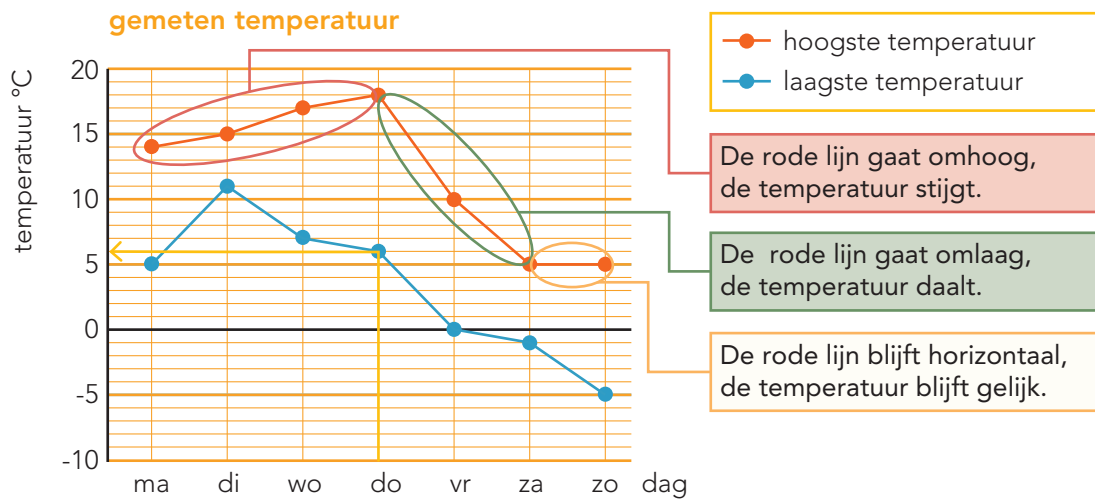


DOEL 4

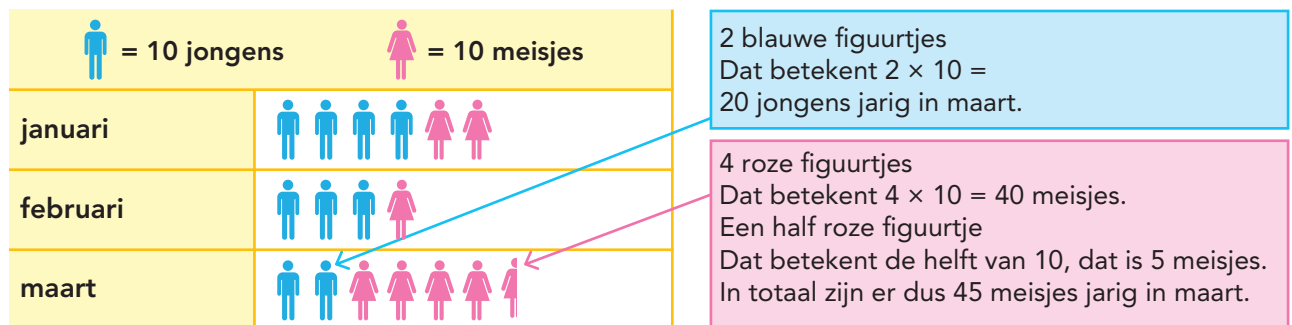
- Je oefent rekenen met lijndiagrammen.
- Je oefent een beelddiagram aflezen en gebruiken.

HULP



Op donderdag was de laagste temperatuur 6 °C.

aantal kinderen jarig in eerste kwartaal

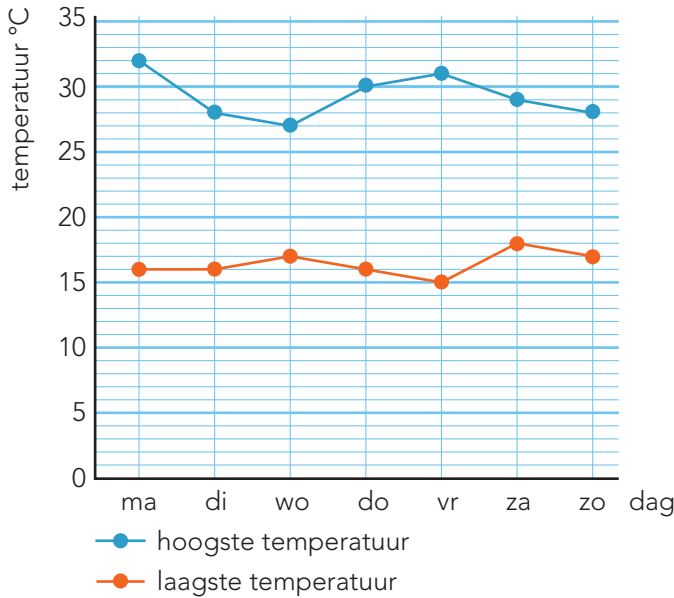


In dit beelddiagram zie je het aantal jarigen in januari, februari en maart.

4

Kijk in het diagram. Beantwoord de vragen.

gemeten temperatuur op vakantie



Wat was de hoogste temperatuur op woensdag? °C.

Op welke dag was het verschil tussen de hoogste en de laagste temperatuur 14 graden?

Op dag.

Op welke dagen was de hoogste temperatuur gelijk? Op dag en dag.

Op welke dag was het verschil tussen de hoogste en de laagste temperatuur 10 graden?





Op dag.

Hoeveel graden verschil was er tussen de hoogste en de laagste temperatuur op maandag? °C.

5

Hoeveel jeugdleden heeft de badmintonclub?

aantal jeugdleden van de badmintonclub

 = 10 jongens	 = 10 meisjes
BC sla_mis	
BC shuttle	

Hoeveel meisjes zijn er lid van BC shuttle?

Hoeveel meer jongens dan meisjes zijn er lid van BC shuttle?

Hoeveel jeugdleden heeft BC sla_mis?

Welke badmintonclub heeft de meeste jongens als jeugdlid?

Bij welke club hebben ze 5 jongens meer dan meisjes?

Bij

KLAAR!