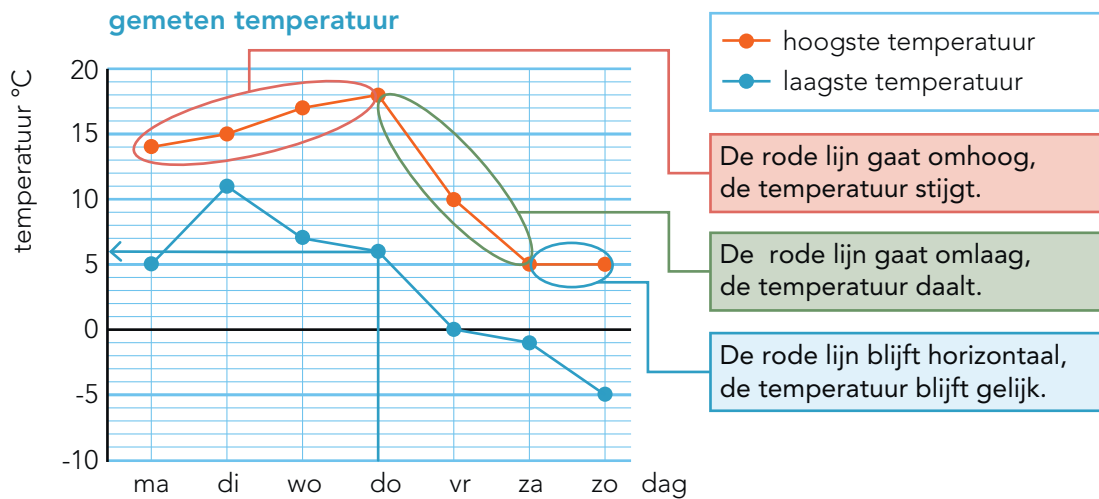




**doel**

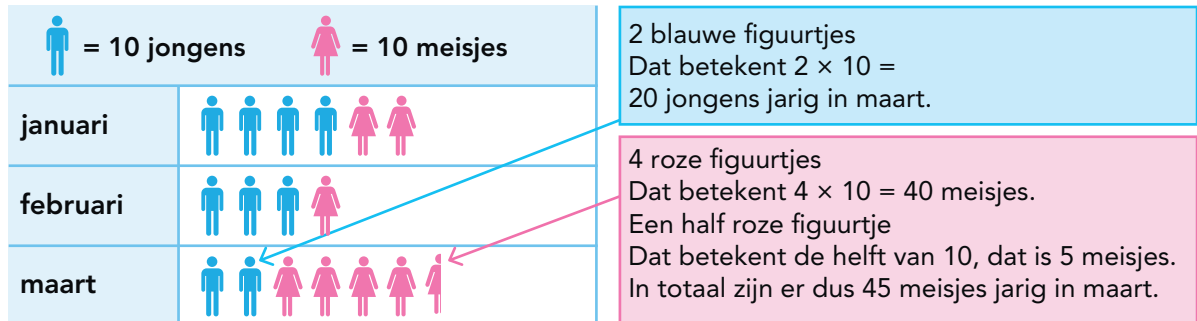
- ▶ Je oefent rekenen met lijndiagrammen.
- ▶ Je oefent een beelddiagram aflezen en gebruiken.

**hulp**



Op donderdag was de laagste temperatuur 6 °C.

**aantal kinderen jarig in eerste kwartaal**



In dit beelddiagram zie je het aantal jarigen in januari, februari en maart.







**ga verder** ➔



**1** ▶ **Hoeveel boeken? Vul de tabel in.**

De school mag nieuwe boeken bestellen voor de bibliotheek.  
Ze tellen eerst hoeveel boeken er al zijn.

	prentenboeken	leesboeken	informatieboeken
groep 1 en 2	150	-	-
groep 3, 4 en 5	50	350	150
groep 6, 7 en 8	-	450	250

groep 1 en 2		 = 100 prentenboeken
groep 3, 4 en 5		 = 100 leesboeken
groep 6, 7 en 8		 = 100 informatieboeken

**2** ▶ **Kijk bij opgave 1. Beantwoord de vragen.**

Hoeveel prentenboeken hebben de groepen 1 tot en met 5 samen? 200

Hoeveel informatieboeken hebben de groepen 1 tot en met 8 samen? 400

Hoeveel boeken heeft groep 3/4/5 in totaal? 550

Hoeveel boeken heeft groep 6/7/8 in totaal? 700

Hoeveel leesboeken zijn er in totaal op school? 800

Hoeveel prentenboeken zijn er in totaal? 200

Hoeveel boeken heeft de bibliotheek in totaal? 1400

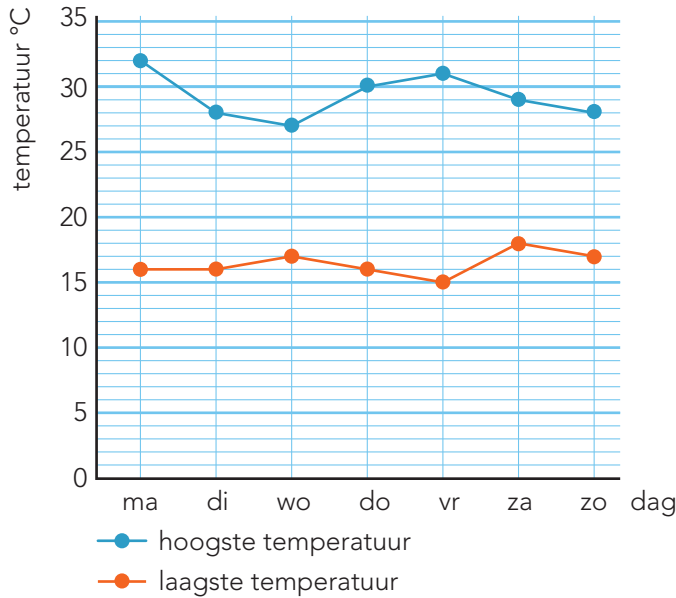
ga verder 



3

Kijk in het diagram. Beantwoord de vragen.

gemeten temperatuur op vakantie



Wat was de hoogste temperatuur op woensdag? 27 °C.

Op welke dag was het verschil tussen de hoogste en de laagste temperatuur 14 graden?

Op donderdag.

Op welke dagen was de hoogste temperatuur gelijk? Op dinsdag en zondag.

Op welke dag was het verschil tussen de hoogste en de laagste temperatuur 10 graden?

Op woensdag.

Hoeveel graden verschil was er tussen de hoogste en de laagste temperatuur op maandag? 16 °C.

4

Hoeveel jeugdleden heeft de badmintonclub?

aantal jeugdleden van de badmintonclub

= 10 jongens	= 10 meisjes
BC sla_mis	
BC shuttle	

Hoeveel meisjes zijn er lid van BC shuttle? 15

Hoeveel meer jongens dan meisjes zijn er lid van BC shuttle? 25

Hoeveel jeugdleden heeft BC sla\_mis? 55

Welke badmintonclub heeft de meeste jongens als jeuglid? BC shuttle

Bij welke club hebben ze 5 jongens meer dan meisjes?

Bij BC sla\_mis

5

+

Hoeveel olifanten?

Er leven steeds minder olifanten in Afrika.

In 1984 waren er in Afrika ongeveer 1.500.000 olifanten.

In 2014 waren er in Afrika ongeveer 1.250.000 olifanten.

Van 1984 tot 2014 is het aantal olifanten gedaald met: 250.000.

**klaar!**