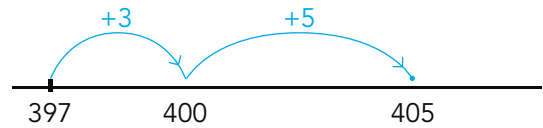




**doel**

► Je oefent aftrekken tot en met 1000 met de strategie aanvullen.

**hulp**



$$397 + 8 = 405$$

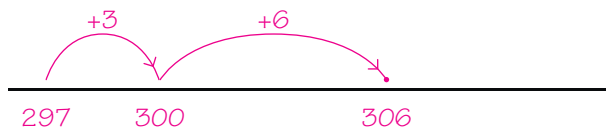
$$405 - 397 = 8$$

**1**

**Welke sommen horen erbij?**

Reken uit op de getallenlijn met aanvullen.

Een boek heeft 306 bladzijden.  
Marnix heeft al 297 bladzijden gelezen.  
Hoeveel bladzijden moet hij nog lezen?

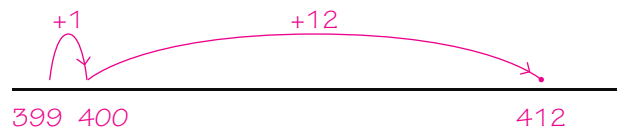


sommen:  $306 - 297 = 9$  en

$297 + 9 = 306$

antwoord: **9 bladzijden**

Esmee heeft € 399,-.  
Zij wil een laptop kopen van € 412,-.  
Hoeveel euro moet zij nog sparen?

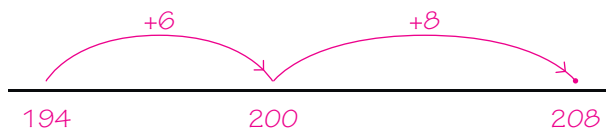


sommen:  $412 - 399 = 13$  en

$399 + 13 = 412$

antwoord: **€ 13,-**

Er zijn 208 verschillende dierenplaatjes.  
Lars heeft er al 194.  
Hoeveel plaatjes mist hij nog?

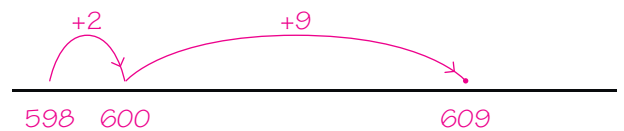


sommen:  $208 - 194 = 14$  en

$194 + 14 = 208$

antwoord: **14 plaatjes**

Marloes moet in totaal 609 kilometer rijden.  
Ze heeft al 598 kilometer gereden.  
Hoeveel kilometer moet ze nog rijden?



sommen:  $609 - 598 = 11$  en

$598 + 11 = 609$


antwoord: **11 kilometer**

**ga verder** ➔



**2** ▶

Reken uit op de getallenlijn met aanvullen.

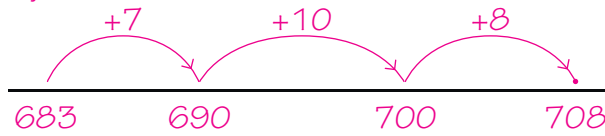


$576 - 569 = \underline{7}$ .....



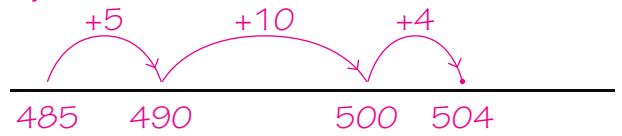
$533 - 527 = \underline{6}$ .....

bijvoorbeeld:



$708 - 683 = \underline{25}$ .....

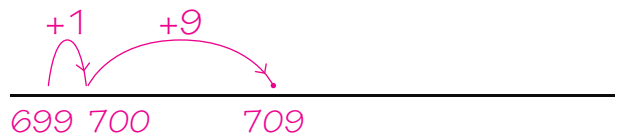
bijvoorbeeld:



$504 - 485 = \underline{19}$ .....



$503 - 496 = \underline{7}$ .....

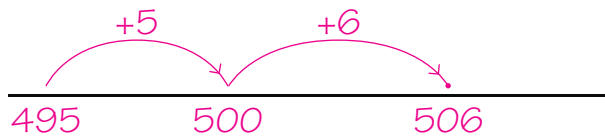


$709 - 699 = \underline{10}$ .....

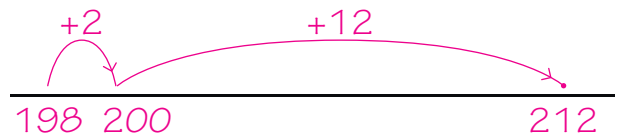
**3** ▶

Kruis de sommen aan waarbij aanvullen handig is.

Reken alleen die sommen uit op de getallenlijn.



$506 - 495 = \underline{11}$ .....




$212 - 198 = \underline{14}$ .....



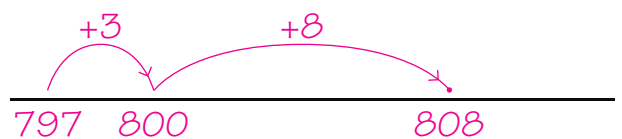
$483 - 478 = \underline{5}$ .....



$413 - 102 = \dots$



$566 - 216 = \dots$



$808 - 797 = \underline{11}$ .....

ga verder

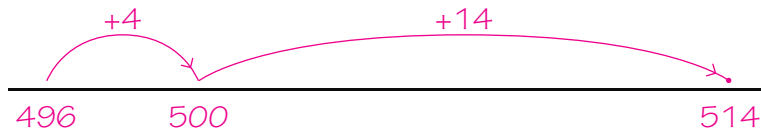


**4** ▶▶

**Welke sommen passen erbij?**

Reken uit op de getallenlijn met aanvullen.

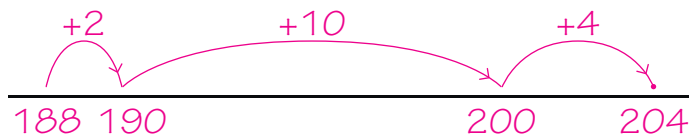
Vorig jaar zaten er 514 kinderen op basisschool De Meteor.  
Dit jaar zijn het er 496.  
Hoeveel kinderen waren er vorig jaar meer?



sommen:  $514 - 496 = 18$  en  $496 + 18 = 514$

antwoord: 18 kinderen

Vorig jaar waren 204 kinderen lid van de hockeyclub.  
Dit jaar zijn het er 188.  
Hoeveel leden had de hockeyclub vorig jaar meer?



sommen:  $204 - 188 = 16$  en  $188 + 16 = 204$

antwoord: 16 kinderen

**klaar!**