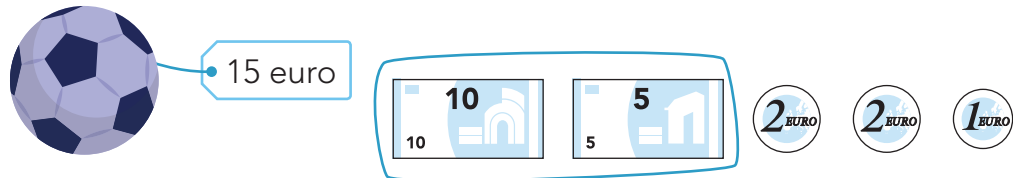




## doel

► Je oefent bedragen tot en met 20 euro te herkennen en samen te stellen.

## hulp






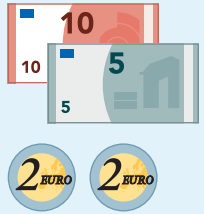




## 1

Is het bedrag goed?

 <p>20 euro</p>	 <p>13 euro</p>	 <p>9 euro</p>	 <p>17 euro</p>
 <p><input type="checkbox"/> <input type="checkbox"/></p>	 <p><input type="checkbox"/> <input type="checkbox"/></p>	 <p><input type="checkbox"/> <input type="checkbox"/></p>	 <p><input type="checkbox"/> <input type="checkbox"/></p>

## 2

Maak samen 20 euro.

 <p>•</p>	 <p>•</p>	 <p>•</p>	 <p>•</p>
 <p>•</p>	 <p>•</p>	 <p>•</p>	 <p>•</p>

ga verder





**3**

**Maak het bedrag.**

Hoeveel moet er nog bij?



5

2 EURO 1 EURO

nog ..... euro

10

2 EURO

nog ..... euro

5

nog ..... euro

5

2 EURO

nog ..... euro

**4**

**Maak het bedrag.**

Doe het met zo min mogelijk munten en biljetten.

8 euro

10

5

2 EURO 2 EURO 2 EURO

1 EURO 1 EURO 1 EURO

11 euro

10

5

2 EURO 2 EURO 2 EURO

1 EURO 1 EURO 1 EURO

18 euro

10

5

2 EURO 2 EURO 2 EURO

1 EURO 1 EURO 1 EURO

14 euro

10

5

2 EURO 2 EURO 2 EURO

1 EURO 1 EURO 1 EURO

**Klaar!**