






Rekenen met De Groentekist

1 In de Groentekist:



Radijs, bieslook, sla, tomaatjes. Dat zijn 4 soorten groente.

2 Voor elke groente 1 vak in de kist.

Dat zijn 4 vakken.

3 Gebruik het ruitjesblad.

Teken de vakken. Ze moeten even groot zijn.

Tip: tel de blokjes van elke kant.

Schrijf erbij welke groente in welk vak.

Let op: niet in het vak schrijven!

4 Gebruik het ruitjesblad.

Je zaait radijs.

In de lange rij: tussen elk zaadje 2 cm.

In de korte rij: tussen elk zaadje 5 cm.

Begin met het eerste zaadje na 1 cm van de rand van de bak. Meet en teken de zaadjes in het vak.

Je zaait bieslook.

In de lange rij: tussen elk zaadje 1 cm.

In de korte rij: tussen elk zaadje 5 cm.

Begin met het eerste zaadje na 1 cm van de rand van de bak. Meet en teken de zaadjes in het vak.

Je zaait sla.

In de lange rij: tussen elk zaadje 5 cm.

In de korte rij: tussen elk zaadje 1 cm.

Begin met het eerste zaadje na 1 cm van de rand van de bak. Meet en teken de zaadjes in het vak.

Je zaait tomaatjes.

In de lange rij: tussen elk zaadje 2 cm.

In de korte rij: tussen elk zaadje 5 cm.

Begin met het eerste zaadje na 1 cm van de rand van de bak. Meet en teken de zaadjes in het vak.

Tip: elk vakje is 1 cm.

**5** Oogsten.

Gebruik de kalender.

Eigen antwoorden.

Op welke dag zaai je radijs? Zet een blauw rondje om de dag.

7 weken later zijn de radijsjes groot genoeg. Zet een blauw kruis door die dag.

Op welke dag zaai je bieslook? Zet een groen rondje om de dag.

6 weken later is de bieslook groot genoeg. Zet een groen kruis door die dag.

Op welke dag zaai je sla? Zet een paars rondje om de dag.

6 weken later heeft de sla mooie blaadjes. Zet een paars kruis door die dag.

Op welke dag zaai je tomaatjes? Zet een rood rondje om de dag.

14 weken later zijn de tomaatjes groot genoeg. Zet een rood kruis door die dag.

6 Welke groente is het lekkerst?

Tekenen en kleur.

The grid is divided into four quadrants by a vertical red line and a horizontal red line. The quadrants are labeled as follows:

- radijs** (top-left): 6 red dots in two vertical columns of three.
- bieslook** (top-right): 6 red dots in two vertical columns of three.
- sla** (bottom-left): 7 red dots in two horizontal rows of four.
- tomaat** (bottom-right): 6 red dots in two vertical columns of three.

MAART

ZO	MA	DI	WO	DO	VR	ZA
1	2	3	4	5	6	7
8	9	10	11	12	13	14
15	16	17	18	19	20	21
22	23	24	25	26	27	28
29	30	31				

APRIL

ZO	MA	DI	WO	DO	VR	ZA
			1	2	3	4
5	6	7	8	9	10	11
12	13	14	15	16	17	18
19	20	21	22	23	24	25
26	27	28	29	30		

MEI

ZO	MA	DI	WO	DO	VR	ZA
					1	2
3	4	5	6	7	8	9
10	11	12	13	14	15	16
17	18	19	20	21	22	23
24	25	26	27	28	29	30
31						

JUNI

ZO	MA	DI	WO	DO	VR	ZA
	1	2	3	4	5	6
7	8	9	10	11	12	13
14	15	16	17	18	19	20
21	22	23	24	25	26	27
28	29	30				

JULI

ZO	MA	DI	WO	DO	VR	ZA
			1	2	3	4
5	6	7	8	9	10	11
12	13	14	15	16	17	18
19	20	21	22	23	24	25
26	27	28	29	30	31	