


PLUSPUNT 3 | LESSUGGESTIE | GROEP 4 | WERKBLAD


Zomerzon!


1 Zomerse sommen




$4 \times 4 =$ 


$6 \times 4 =$ 


$180 - 10 =$ 

$30 + 40 =$ 

$2 \times 5 =$ 


$5 \times 10 =$ 


$90 - 40 =$ 

$120 + 80 =$ 

$9 \times 1 =$ 


$7 \times 2 =$ 


$200 - 30 =$ 

$70 + 60 =$ 


$8 \times 2 =$ 


$6 \times 5 =$ 


$50 - 20 =$ 

$90 + 50 =$ 

$5 \times 5 =$ 

$2 \times 2 =$ 

$110 - 30 =$ 

$140 + 20 =$ 

2 Zomervakantie

Zet een rondje om het juiste antwoord.

Clara zwemt van de ene kant naar de andere kant van het zwembad. Hoe lang is dat, denk je?

- A 15 kilometer
- B 15 centimeter
- C 15 meter



De familie Zomer gaat met de auto naar Frankrijk. Ze vertrekken vanaf Utrecht. Hoe lang is het rijden denk je?

- A 1200 kilometer
- B 1200 millimeter
- C 1200 meter



Wat is de temperatuur hier, denk je?

- A 2 graden Celsius
- B 15 graden Celsius
- C 28 graden Celsius



De tent staat! Hoeveel weegt de tent, denk je?

- A 5 gram
- B 10 kilogram
- C 500 kilogram



Als het warm is moet je goed drinken. Hoeveel zit er in een fles, denk je?

- A 1 liter
- B 1 kiloliter
- C 1 centiliter



3 Koude ijsjes voor warme dagen

We gaan ijsjes maken. Help je mee? Vul de lege plekken in de tabel in.

Ingrediënten	Nodig voor 1 ijsje	Voor 2 ijsjes	Voor 4 ijsjes
	2 bollen vanille-ijs	___ bollen vanille-ijs	___ bollen vanille-ijs
	1 bol chocolade-ijs	___ bollen chocolade-ijs	___ bollen chocolade-ijs
	5 frambozen	___ frambozen	___ frambozen
	3 aardbeien	___ aardbeien	___ aardbeien
	2 eetlepels slagroom	___ eetlepels slagroom	___ eetlepels slagroom
	10 gram vruchtenhagel	___ gram vruchtenhagel	___ gram vruchtenhagel
	1 parapluutje	___ parapluutjes	___ parapluutjes