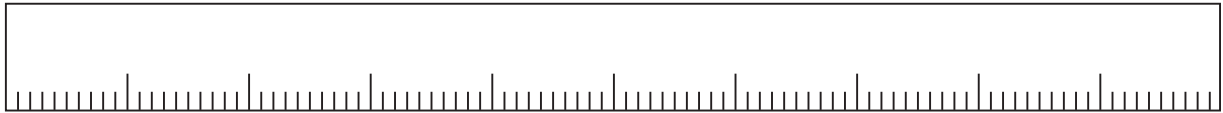


Vogels in de winter

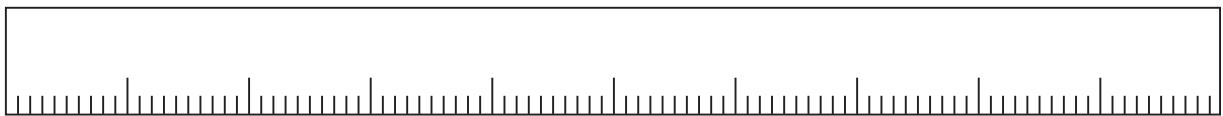
1. Kleur de procenten.

Vogels in de tuin.

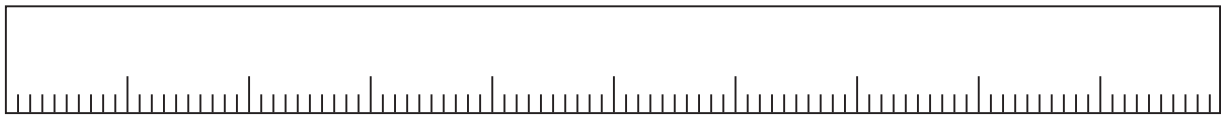
| | |
|--------------|-----|
| koolmeesjes | 37% |
| roodborstjes | 4% |
| merels | 48% |
| vinken | 11% |



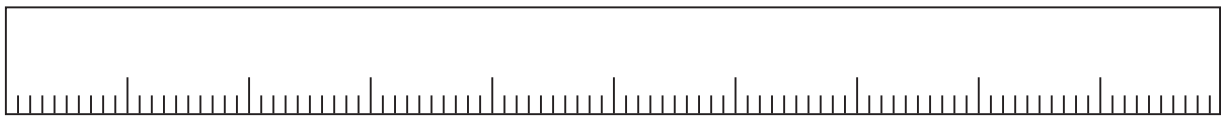
koolmeesjes



roodborstjes



merels



vinken

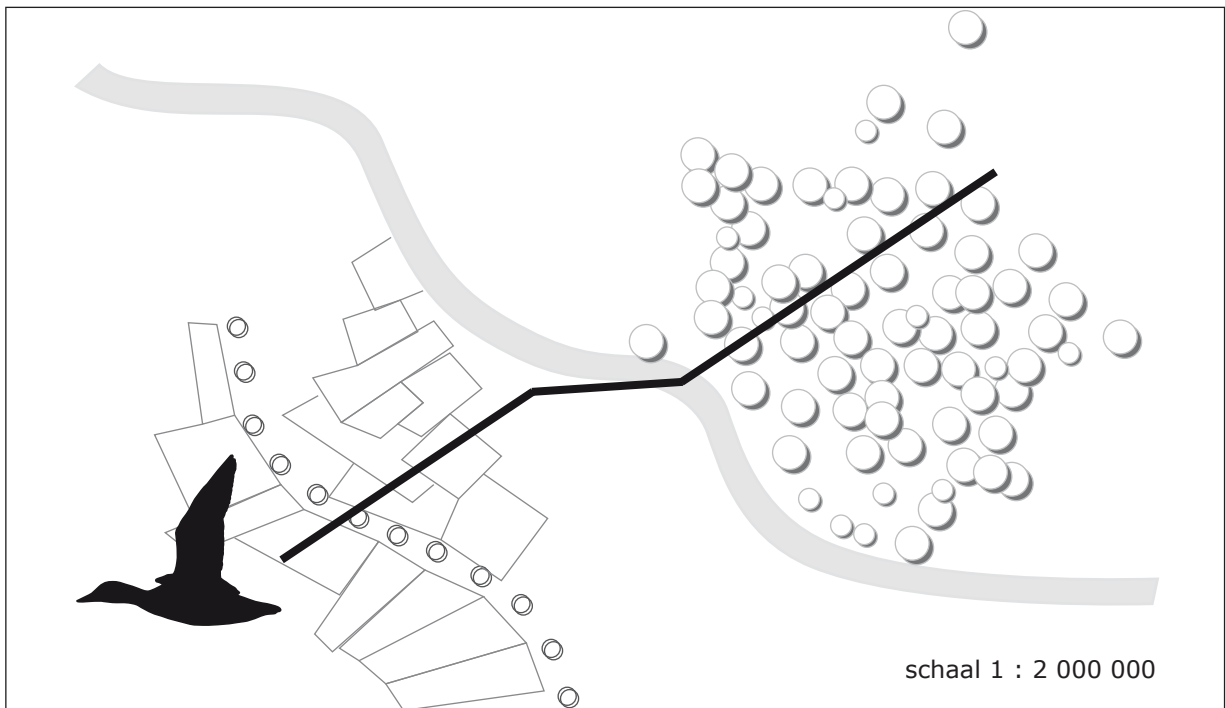
2. Reken uit.

| | |
|----------------------|----------------------|
| € 6 3 , 8 3 | € 4 4 , 2 5 |
| € <u>2 5 , 9 5</u> - | € <u>1 6 , 8 0</u> - |
| € | € |

| | |
|----------------------|----------------------|
| € 3 7 , 5 6 | € 8 5 , 7 9 |
| € <u>3 4 , 6 5</u> - | € <u>4 6 , 9 5</u> - |
| € | € |



3. Hoeveel km heeft deze gans al gevlogen? Reken uit.



Elk jaar vliegt de ooievaar maar liefst 7000 km om de winter op een warmere plek door te brengen. Kampioen vogeltrek is de Noordse stern. Hij vliegt 18 000 km!

4. Hoe lang duurt het? Vul in.

| snelheid | afstand | tijdsduur |
|----------|---------------|-----------|
| | Duiven 180 | _____ |
| | Vinkeveen 100 | _____ |
| | Valkenburg 60 | _____ |
| | Wormerveer 20 | _____ |

Wist je dat de steltloper 4000 km vliegt om te overwinteren, met een snelheid van ongeveer 80 km per uur?

