

PLUSPUNT 3 | LESSUGGESTIE | GROEP 4 | WERKBLADEN

Sporten in de winter

1 Hoe ver springen zij?

Zet op de getallenlijn.



10 meter	30 meter	60 meter	80 meter

2 Hoe moet Ella sturen?

Schrijf: rechts of links.

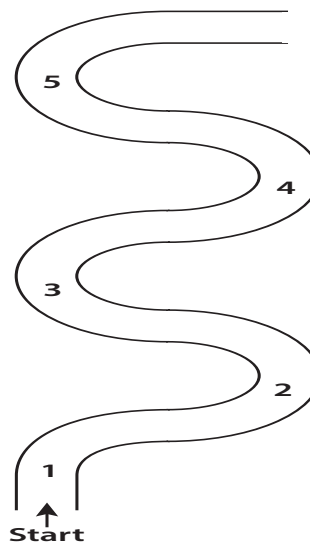
1 = *rechts*

2 = _____

3 = _____

4 = _____

5 = _____



2 Hoe koud is het?

Kleur de thermometer.




2 graden



4 graden



0 graden



7 graden

3 Sport op tv

Jelle kijkt graag sport op tv. Dit weekend zijn er veel wedstrijden. Teken de wijzers in de klok.

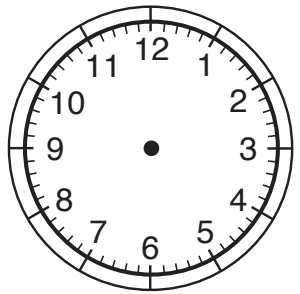
9:00 uur 's morgens: shorttrack



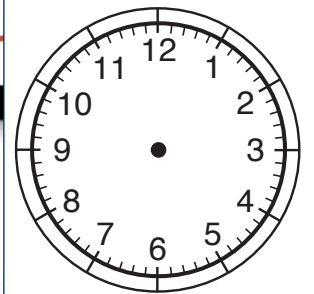
1:00 uur 's middags: slalom



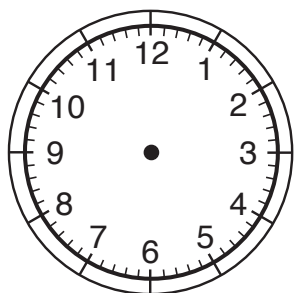
2:30 uur 's middags: snowboarden



6:00 uur 's avonds: kunstschaatsen



10:15 uur 's avonds: bobsleeën



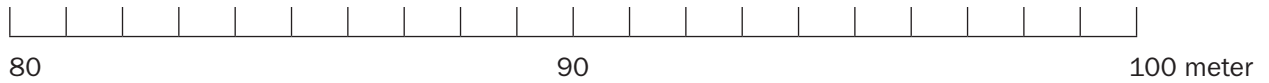
4 Teken alle spiegellijnen.

De eerste is voorgedaan.



5 Hoe ver springen zij?

Zet op de getallenlijn.



81 meter	97 meter	93 meter	87 meter

7 Reken uit!

Mo en Fatima gaan samen op wintersport. Daarvoor huren ze spullen.

Dit hebben ze in hun portemonnee:

Mo

Fatima



Mo wil:

- skateboard (zeg: skeet-bord) _____
- jas _____
- bril _____

Hij is kwijt: € _____

Fatima wil:

- ski's _____
- ski stokken _____
- skischoenen _____
- handschoenen _____

Zij is kwijt: € _____

- a Schrijf de prijzen achter hun lijstje.
- b Hoeveel moet Mo betalen? Vul het in.
- c En hoeveel Fatima? Vul het in.



- d Hebben Mo of Fatima nog geld over? Fatima heeft € _____ over.
Mo heeft € _____ over.
- e Wat kunnen ze daar nog extra huren als ze hun geld willen opmaken?
