

**PLUSPUNT 3 | LESSUGGESTIE | GROEP 7 | WERKBLAD**

**Met liefde rekenen**

**Wat ga je doen?**

- Je leest een verhaaltje en maakt een berekening.
- Je gaat handig rekenen.
- Je rekt met percentages en mooie getallen.
- Je maakt een cirkeldiagram.

**Je hebt nodig:**

- Kleurpotloden of viltstiften (rood, blauw, geel en groen).

**1 Echte liefde!**

Er bestaan verschillende soorten bruiloften.

Papieren bruiloft	= 1 jaar getrouwd
Tinnen bruiloft	= 10 jaar getrouwd
Koperen bruiloft	= 12,5 getrouwd
Porseleinen bruiloft	= 20 jaar getrouwd
Zilveren bruiloft	= 25 jaar getrouwd
Gouden bruiloft	= 50 jaar getrouwd
Diamanten bruiloft	= 60 jaar getrouwd
Eiken bruiloft	= 80 jaar getrouwd



Claudia en Berrie zijn getrouwd op 17 september 2007

Claudia is geboren op 14 juni 1976.

Berrie is 13 jaar ouder en jarig op 13 augustus.

- Hoe oud is Claudia? 40 jaar
- Hoe oud is Berrie? 53 jaar
- In welk jaar is Berrie geboren? 1963
- Hoeveel jaar zijn ze nu getrouwd? En welke bruiloft vieren ze dit jaar?

9 jaar getrouwd en ze vieren dit jaar hun tinnen bruiloft.

Carla en Ad hebben elkaar leren kennen in december 1956.

Carla was toen 21 jaar en Ad 24 jaar.

Precies twee jaar later zijn ze getrouwd.

a. In welk jaar vierden Carla en Ad hun koperen bruiloft? In 1971

b. Welke bruiloft hebben Carla en Ad vorig jaar gevierd? Diamanten bruiloft

c. En hoe oud zijn Carla en Ad als ze hun eiken bruiloft vieren? 103 en 106 jaar

## 2 Een cadeau voor je liefje

Heb je genoeg aan 30 euro?

Reken handig.

KASSABON	
Bonbons	€ 2,49
Parfum	€ 9,99
Fotolijstje	€ 3,50
Knuffelbeer	€ 7,49
Koptelefoon	€ 5,40
<u>Ja</u>	



KASSABON	
Chocolade	€ 2,99
Kaarsen	€ 3,98
Sleutelhanger	€ 3,15
Lippenstift	€ 6,75
Rode rozen	€ 15,00
<u>Nee</u>	

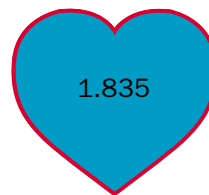
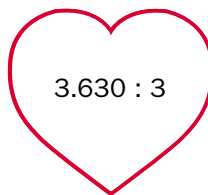
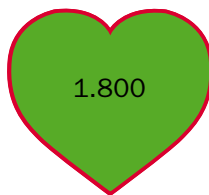
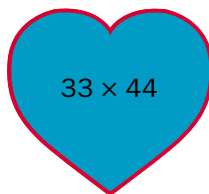


KASSABON	
Ketting	€ 10,99
Snoepjes	€ 0,99
Parfum	€ 9,99
Valentijnskaart	€ 1,50
Bonbons	€ 2,49
<u>Ja</u>	



## 3 Maak een match!

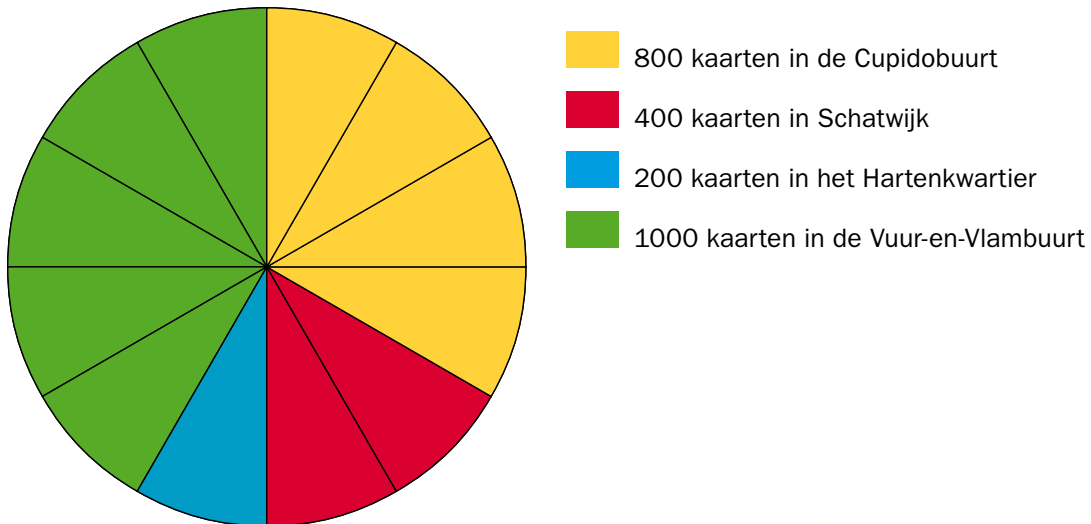
Welke hartjes horen bij elkaar? Geef ze dezelfde kleur.



#### 4 Valentijnskaarten

Het is Valentijnsdag. De postbode heeft het druk. Alleen al in Liefdesstad bezorgt hij 2400 valentijnskaarten. Kleur het cirkeldiagram.

a. 2400 valentijnskaarten in Liefdesstad.



b. Valentijnskaarten voor Guus.

Guus heeft veel vakantie vriendinnetjes en krijgt 50 Valentijnskaarten vanuit de hele wereld. Vul de vragen in.



\* Uit Frankrijk krijgt Guus 10 kaarten.  
Hoeveel procent is dat?

20 \_\_\_\_\_ %

\* Van zijn Spaanse vriendinnetjes krijgt hij 15 kaarten.  
Hoeveel procent is dat?

30 \_\_\_\_\_ %

\* Uit Italië worden er 5 kaarten bezorgd.  
Hoeveel procent is dat?

10 \_\_\_\_\_ %

\* In Zweden is Guus heel populair. Daar vandaan krijgt hij 20 kaarten.  
Hoeveel procent is dat?

40 \_\_\_\_\_ %