

PLUSPUNT 3 | LESSUGGESTIE | GROEP 3 | WERKBLAD

Boerderijrekenen

1 verhaaltjes met dieren

bij boer thijs zijn 4 lammetjes geboren.
 bij boerin janneke 7.
 hoeveel lammetjes zijn dat samen?

4 + 7 = _____ lammetjes

de kip heeft 12 eieren gelegd.
 2 eieren gaan kapot.
 hoeveel zijn er nog over?


_____ eieren

in de wei lopen 7 koeien en 8 geiten.
 hoeveel dieren zijn dat samen?

_____ koeien en geiten

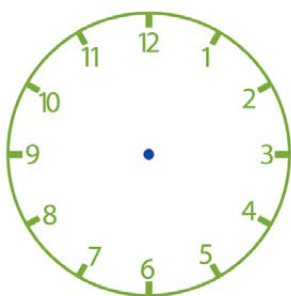
in de sloot zwemmen 10 eendjes.
 3 eendjes gaan op de kant zitten.
 hoeveel eendjes zijn er nog in het water?

_____ eendjes

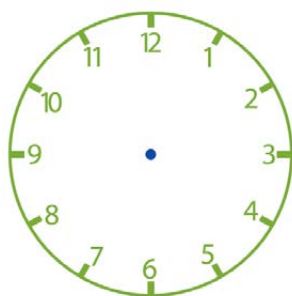


2 hoe laat?

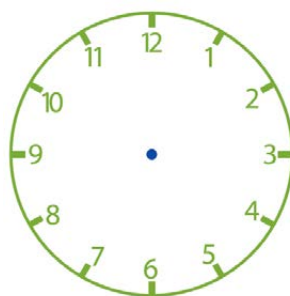
boerin janneke heeft veel te doen op een dag.
 teken de wijzers in de klokken.



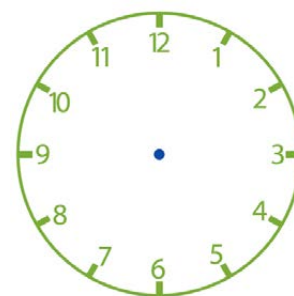
Janneke staat om 6 uur op.



Om 7 uur gaat Janneke de koeien melken.



Om 10 uur voert Janneke de kippen.



Om 11 uur rijdt Janneke op de tractor.

3 wat staat er onder het dier?

vul het getal in.

$2 + \text{cow} = 7$ _____

$\text{cow} + 4 = 10$ _____

$5 + 5 = \text{cow}$ _____

$8 + \text{cow} = 11$ _____

$3 + 3 = \text{cow}$ _____

$12 - \text{sheep} = 9$ _____

$\text{sheep} - 8 = 2$ _____

$15 - 5 = \text{sheep}$ _____

$20 - \text{sheep} = 10$ _____

$8 - 3 = \text{sheep}$ _____

4 wat kost het?

boerin janneke heeft ook een winkel.

ze verkoopt van alles.

weet jij wat het kost?

kleur het geld.

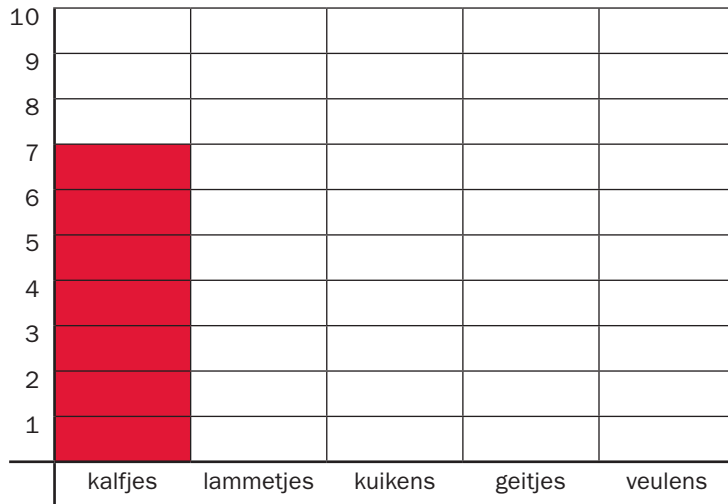


5 de dieren van janneke

op de boerderij van janneke zijn jonge dieren geboren.

hoeveel?

kleur de staafjes in.



- 7 kalfjes
- 4 lammetjes
- 10 kuikens
- 8 geitjes
- 3 veulens