


## Zomer in de bol

### 1 het is zomer!

teken de wijzers in de klok.


om 10 uur gaat Coen naar het zwembad.

teken de wijzers in de klok.




om 2 uur eet Willem een ijsje.

teken de wijzers in de klok.




om 5 uur doet papa een dutje in het gras.

teken de wijzers in de klok.



om 8 uur snoept mama aardbeien.

teken de wijzers in de klok.



2 mmm, lekker!

teken hier 2 minder.  3 aardbeien		teken hier 1 meer.  6 aardbeien
teken hier evenveel.  1 stuk meloen		teken hier 2 meer.  3 stukken meloen
teken hier 1 minder.  2 ijsjes		teken hier 3 meer.  6 ijsjes

3 zomerse sommen



$5 + 2 = 7$

$6 + 5 = 11$

$9 - 3 = 6$

$4 - 2 = 2$

$12 - 4 = 8$

$9 - 3 = 6$

$10 - 1 = 9$

$17 + 3 = 20$

$14 + 5 = 19$

$13 + 2 = 15$

$11 - 8 = 3$

$10 + 6 = 16$

**4 een weekje vrij! wat ga jij doen?**

schrijf de dagen van de week in de goede volgorde.  
teken of schrijf op wat jij die dag gaat doen.



kies uit: zondag – vrijdag – maandag – zaterdag – woensdag – donderdag – dinsdag

maandag	dit ga ik doen:
<u>dinsdag</u>	dit ga ik doen:
<u>woensdag</u>	dit ga ik doen:
<u>donderdag</u>	dit ga ik doen:
<u>vrijdag</u>	dit ga ik doen:
<u>zaterdag</u>	dit ga ik doen:
<u>zondag</u>	dit ga ik doen: