

PLUSPUNT 3 | WERKBLAD | GROEP 7

De wereld rond!

Wat ga je doen?

- een cirkeldiagram lezen
- rekenen met grote getallen
- rekenen met tijdstabellen

1a Wereldse kinderen

In groep 7 zitten 30 kinderen.
De kinderen komen uit alle delen van de wereld.

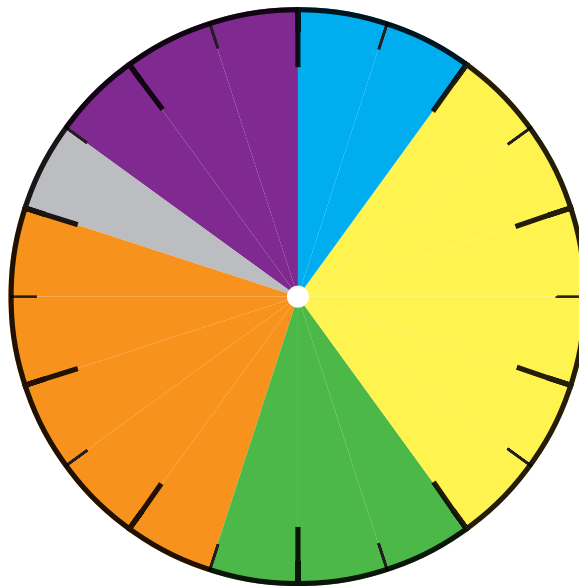

Kijk naar de cirkel en vul de antwoorden hieronder in.

- % van de kinderen komt uit China.
- % van de kinderen komt uit Marokko.
- % van de kinderen komt uit India.
- % van de kinderen komt uit Spanje.
- % van de kinderen komt uit Turkije.



-  China
-  Marokko
-  India
-  Spanje
-  Turkije

1b Wereldse gerechten



Het favoriete eten van 80 kinderen.

- Hoeveel kinderen eten graag burrito's? kinderen
- Hoeveel kinderen eten graag stampot? kinderen
- Hoeveel kinderen eten graag curry? kinderen
- Hoeveel kinderen eten graag couscous? kinderen
- Hoeveel kinderen eten graag sushi? kinderen
- Hoeveel kinderen eten graag pizza? kinderen

2 Reken de sommen uit

- | | |
|---------------------------|---------------------------|
| 750.000 – 230.000 = | 875.000 – 3000 = |
| 940.000 – 270.000 = | 221.000 – 123.000 = |
| 355.000 – 25.000 = | 875.800 – 5000 = |
| 268.000 – 98.000 = | |
| 154.000 – 50.000 = | |
| 976.700 – 600 = | |



3 Onderweg

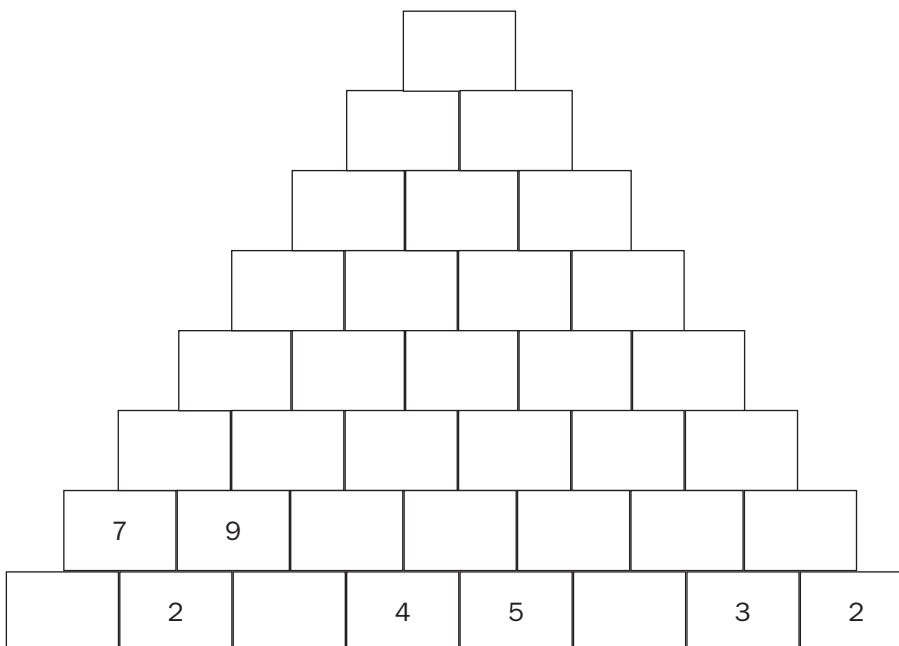
Vul het schema verder in.

Vertrek	Aankomst	Reistijd
Amsterdam 07:20 u.	Bangkok 19:20 u. uur
Madrid 13:50 u.	Tokyo u.	13 uur en 45 minuten
Moskou 8:15 u.	Washington u.	3 uur en 30 minuten
New Delhi 05:30 u.	Berlijn 14:45 u.



4 De piramide

Schrijf in elk vak het cijfer dat gelijk is aan de som van de 2 antwoorden die er precies onder staan.



Piramide van de zon, in Teotihuacán, Mexico